

# Opdrachten in het archief - Antwoordenblad

Het Gemeentearchief Barneveld heeft zo'n 20.000 oude en ook nieuwere foto's die helpen om de geschiedenis van Barneveld te kunnen vertellen. Deze foto's zijn in de loop der jaren verzameld. Het leuke van deze verzameling is, dat deze nooit compleet is. Nog steeds krijgt het Gemeentearchief oude foto's van mensen die in de gemeente Barneveld wonen of gewoond hebben.

Om ervoor te zorgen dat al deze foto's door iedereen bekeken kunnen worden, worden deze op het internet gezet. Ga op de computer naar de website van het Gemeentearchief Barneveld: [gemeentearchief.barneveld.nl](http://gemeentearchief.barneveld.nl)

Via het zoekveld midden op het scherm kun je zoeken in alles wat wij op internet hebben staan. Dus ook in de foto's. Als je hierin bijvoorbeeld "Oranjerie" intypt, krijg je een scherm met de resultaten uit onze verschillende bronnen. Als je klikt op de tegel Beeld en geluid, krijg je alle foto's te zien via de website [www.archieval.nl](http://www.archieval.nl)

## Opdracht 1

Op de volgende pagina's hebben wij alvast 5 foto's voor jullie uitgezocht. Zoek deze foto's op in de fotocollectie op internet (gebruik hiervoor de nummers die onder de foto's staan). Schrijf dan op welke gebouwen of straten op deze foto's staan en in welk jaar de foto's genomen zijn. Herken je de straten nog?

Foto 1 (nr. GB04445) Jan van Schaffelaarstraat	Jaartal:tussen 1900 en 1920
Foto 2 (nr. 03.0475) Oude Markt	Jaartal: tussen 1880 en 1889
Foto 3 (nr. GB03903) Spoorstraat	Jaartal: tussen 1902 en 1905
Foto 4 (nr. GB03786 Nieuwstraat, nu Raadhuisplein	Jaartal:tussen 1915 en 1930
Foto 5 (nr. ANS.0818) Nieuwstraat, Concertgebouw	Jaartal: tussen 1931 en 1940

## Opdracht 2

Stel je voor: je stapt het Kruidvat uit en loopt in de Jan van Schaffelaarstraat richting de Langstraat. Welke foto past daarbij?

Dat is foto 1 (nr. GB04445)

## Opdracht 3

Wat was de bibliotheek vroeger?

Concertgebouw

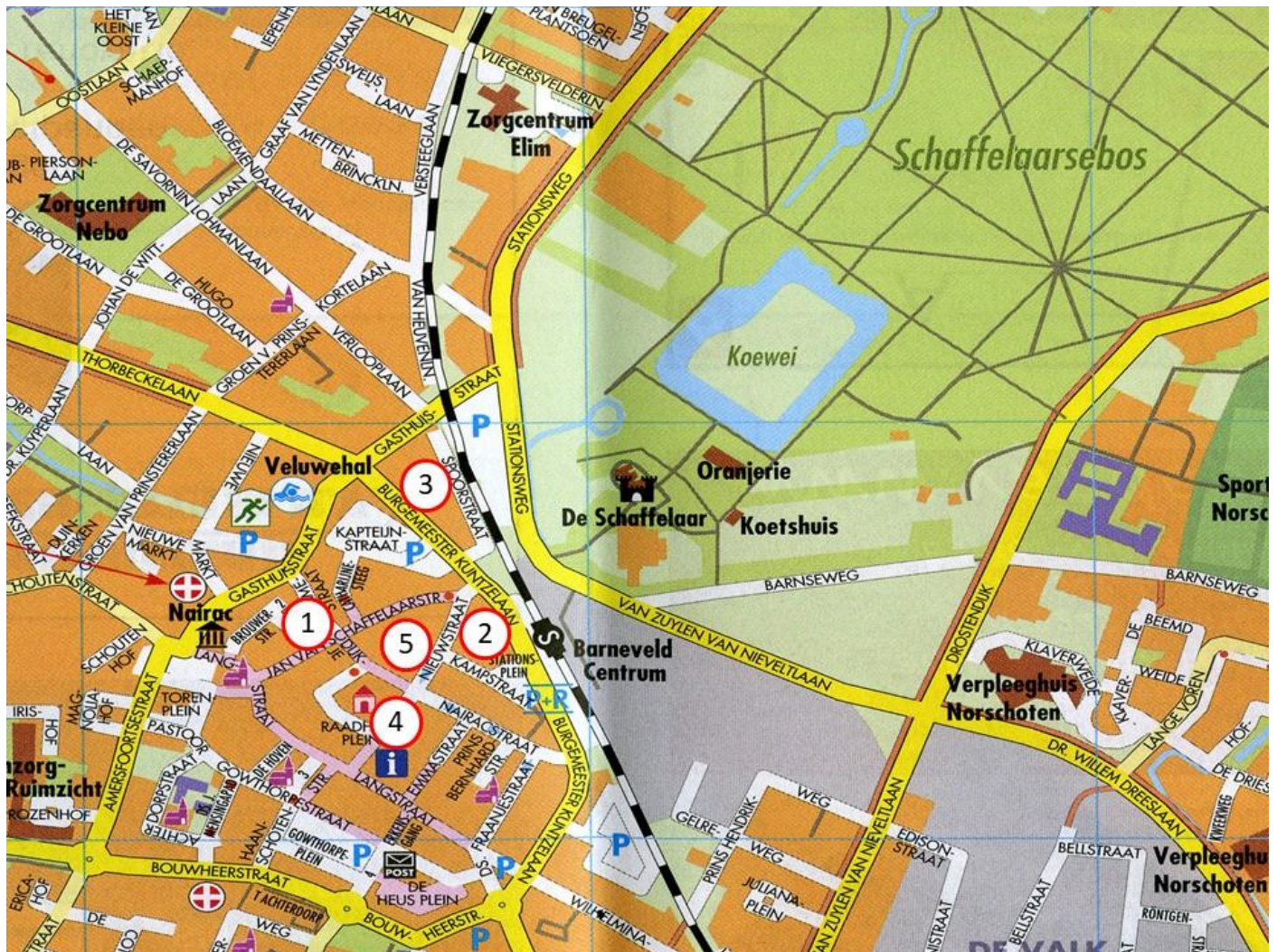
## Opdracht 4

Sommige straten in Barneveld hebben nu een andere naam dan vroeger. Hoe heette vroeger het Raadhuisplein?

Nieuwstraat (zie foto nummer 4)

## Opdracht 5

Op de volgende bladzijde zie je de plattegrond van Barneveld. Zet de 5 nummers van de foto's op de juiste plek op de kaart.



## Opdracht 6

Zoek op de internetsite van het Gemeentearchief Barneveld de twee oude foto's uit de 19e eeuw die gebruikt zijn bij de herbouw van de Oranjerie. Schrijf de nummers van de foto's op.




Foto nummer GB06298




Foto nummer GB05016